


Navodilo za 1. nalogo:

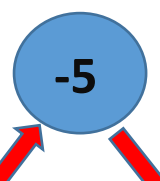
Pred reševanjem spodnjih nalog moraš predelati navodila na projekciji. Hiške ni potrebno risati. Račune pa prepisi tako kot so tu na listu in izračunaj.



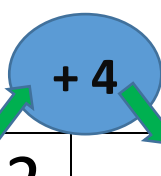
$74 - 2 =$, ker je _____
$97 - 6 =$, ker je _____
$35 - 4 =$, ker je _____
$68 - 5 =$, ker je _____
$46 - 1 =$, ker je _____
$59 - 7 =$, ker je _____
$23 - 0 =$, ker je _____

Navodilo za 2. nalogo:

Izračunaj še nekaj računov na malo drugačen način! Tvoji kvadratici v zvezku ti bodo v pomoč, da si narišeš enako razpredelnico.



38	
57	
26	
69	
45	



12	
54	
26	
61	
75	