

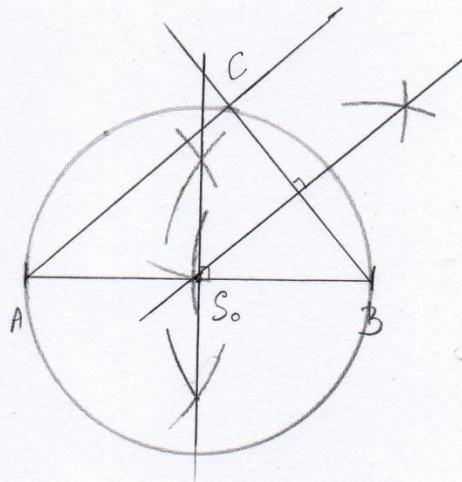
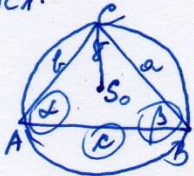
Rešitve delovnega lista 4

Opomba: Upoštevajte, da narisane dolžine niso natančne zaradi skeniranja slik.

učbenik str. 131

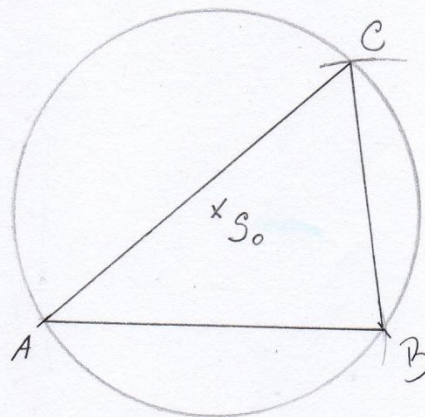
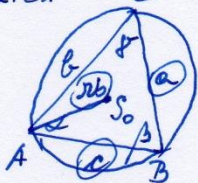
4a  $c = 5 \text{ cm}$   
 $\alpha = 40^\circ$   
 $\beta = 50^\circ$

SKICA:



5a  $c = 5 \text{ cm}$   
 $a = 4 \text{ cm}$   
 $r_0 = 3 \text{ cm}$

SKICA:



## VAJA

Prepiši podatke, nariši skico in nariši sliko trikotnikov.

učbenik str.131/ 4c,č, 5b, 7a

(Rešitve bodo na naslednjem delovnem listu.)