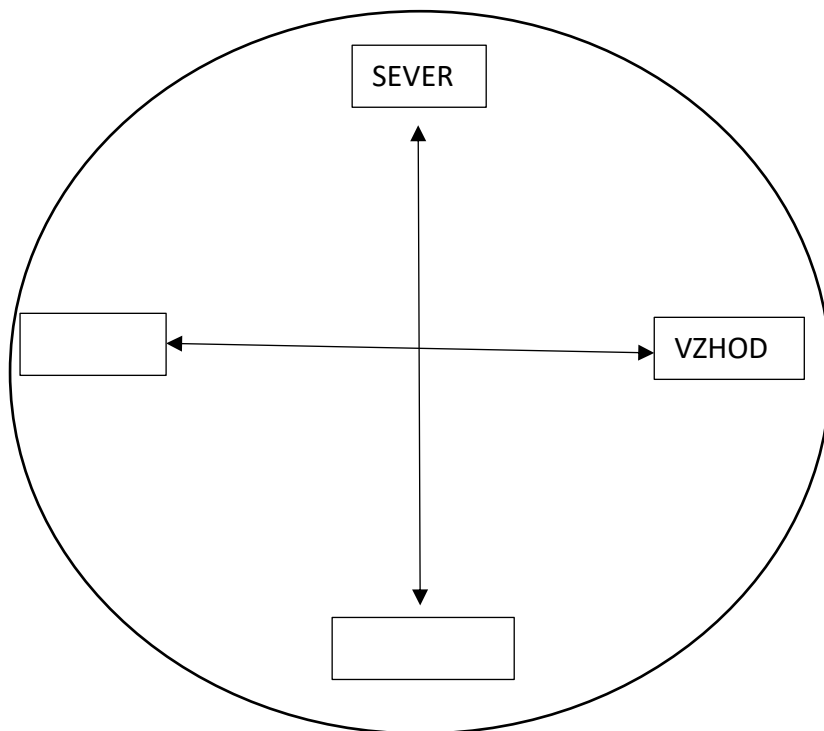


Naslov v zvezku: **ORIENTACIJA**

1. Preberi besedilo v učbeniku na strani 56.

Preriši spodnjo sliko in dopolni z manjkajočimi stranmi neba. Spodnjo poved prepisi v zvezek in jo dopolni.



Zemljevidi so narisani tako, da je sever na vrhu zemljevida, jug na _____, vzhod na desni strani in zahod na _____ strani zemljevida.

2. Riši po navodilu (rišeš pokrajino).

1. Nariši kvadrat, ki ima stranice dolge približno 10 centimetrov.
2. V kvadrat desno spodaj nariši hiško.
3. Na sredini zgoraj nariši cerkev.
4. Pod cerkev nariši jezero.
5. Desno od cerkve nariši nekaj dreves, ki predstavljajo gozd.
6. Levo od jezera nariši polje.
7. Levo spodaj nariši gasilski dom.

Sedaj preveri (spodaj) ali si narisal-a pravilno in potem nadaljuj s prepisom in dopolnjevanjem povedi. Namesto izrazov levo, desno, spodaj in zgoraj uporabljal smeri neba.

Jezero je _____ od polja.

Južno od polja je _____.

Gozd je _____ od cerkve.

Cerkev je _____ od jezera.

Gasilski dom je _____ od hiške.

Pri naslednji nalogi povprašaj starše, če ti dovolijo oditi ven. Prosi jih za malo pomoči.



3. Določi smeri neba z dvema palicama.

POTREBUJEŠ:

- večjo palico (1 m)
- manjšo palico
- kamen ali kladivo
- pet kamenčkov

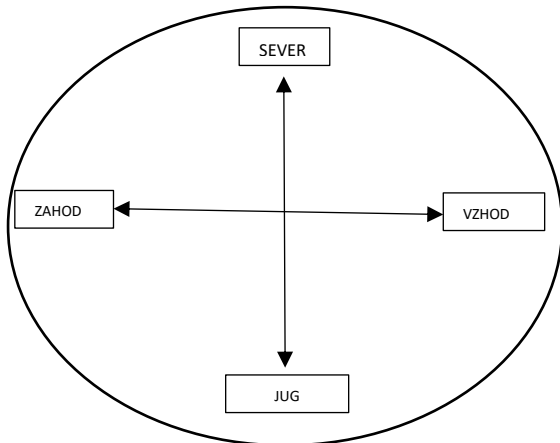
1. Poišči ravna tla (po možnosti brez rastja).
2. S kamnom zabij palico v tla (čim bolj navpično).
3. Vsakih 15 minut s kamenčkom označi konec sence palice.
4. Po eni uri s krajšo palico poveži kamenčke.
5. Krajša palica leži v smeri vzhod–zahod.



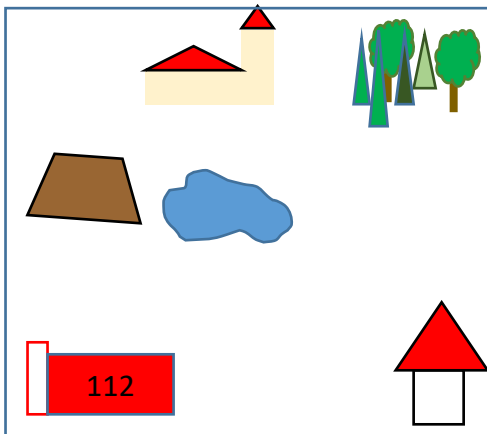
Učenje na daljavo je kar zabavno!



REŠITVE



Zemljevidi so narisani tako, da je sever na vrhu zemljevida, jug na **dnu**, vzhod na desni strani in zahod na **levi** strani zemljevida.



Jezero je **vzhodno** od polja.

Južno od polja je **gasilski dom**.

Gozd je **vzhodno** od cerkve.

Cerkev je **severno** od jezera.

Gasilski dom je **zahodno** od hiške.