

2. ura – 3. teden

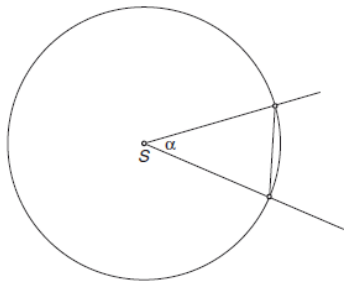
PREMISLI:

Ali ločiš med pojmi krožni lok, krožni izsek in krožni odsek?

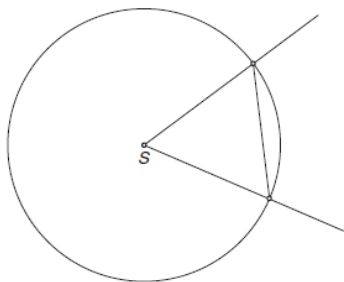
Oglej si rešitve nalog 1, 2, 3, 4 na strani 194.

7.9 KROŽNI LOK IN KROŽNI IZSEK

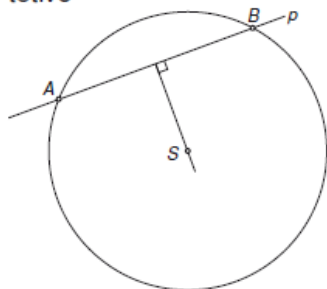
1 $\alpha = 40^\circ$



2 tetiva meri 3 cm



3 tetivo



4 $\sphericalangle BSC = 50^\circ$ $\sphericalangle ASB = 60^\circ$ $\sphericalangle ASC = 110^\circ$

