

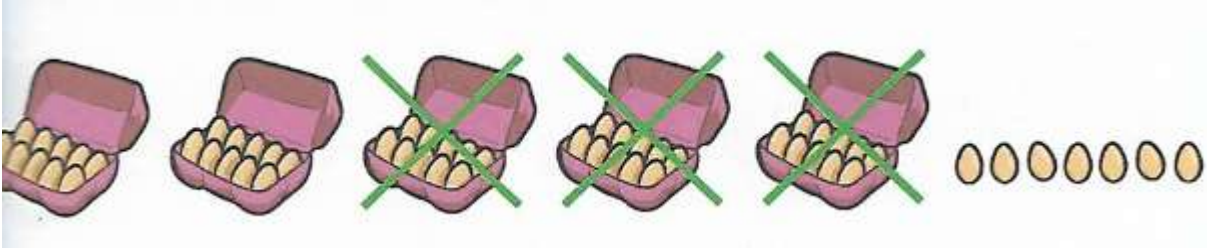
Odštevanje desetic

Oglej si prikaze:


Prikaz 1

V šolski kuhinji so kupili 57 jajc, 30 so jih porabili za peko palačink.

Koliko jajc jim je ostalo?



$$57 - 30 = 27$$



Ostalo jim je 27 jajc.

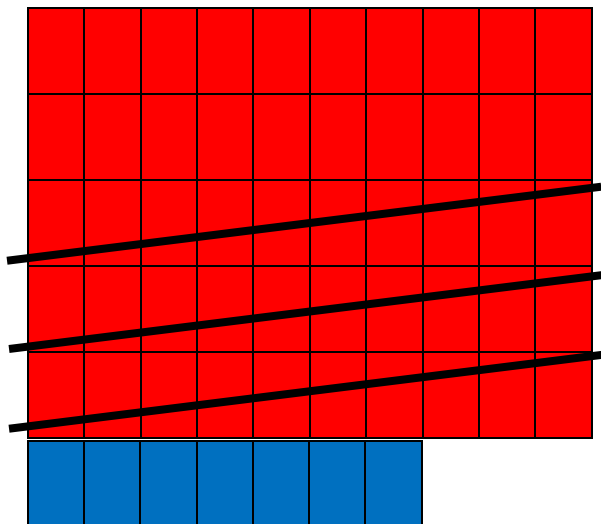
Prikaz s stotičkom 2

1	2	3	4	5	6	7	8	9	10
11									20
21						27			30
31									40
41									50
51						57			60
61									70
71									80
81									90
91									100

Prikaz 3 – delo v zvezek

(v matematični zvezek zapiši naslov, pobarvaj 5 desetice in sedem enic. Od spodaj navzgor prečrtamo 3 desetice. Ostane nam 27. Spodaj napiši račun, kot kaže skica in nariši še sliko s palčkami in krogci, ki predstavljajo desetice in enice.)

Kadar odštevamo desetice, se enice ne spreminjajo, samo desetice.



$$57 - 30 = 27$$

Preden začneš z računanjem v zvezek, vse napisane račune prikaži s slamicami, oziroma palčkami. V zvezek prepisi in izračunaj še teh nekaj primerov. Če je potrebno si pri računu še pomagaj s sliko (palčke za desetice, krogci za enice):

$$81 - 50 =$$

$$75 - 30 =$$

$$34 - 10 =$$

$$96 - 40 =$$

$$52 - 20 =$$

$$67 - 30 =$$