

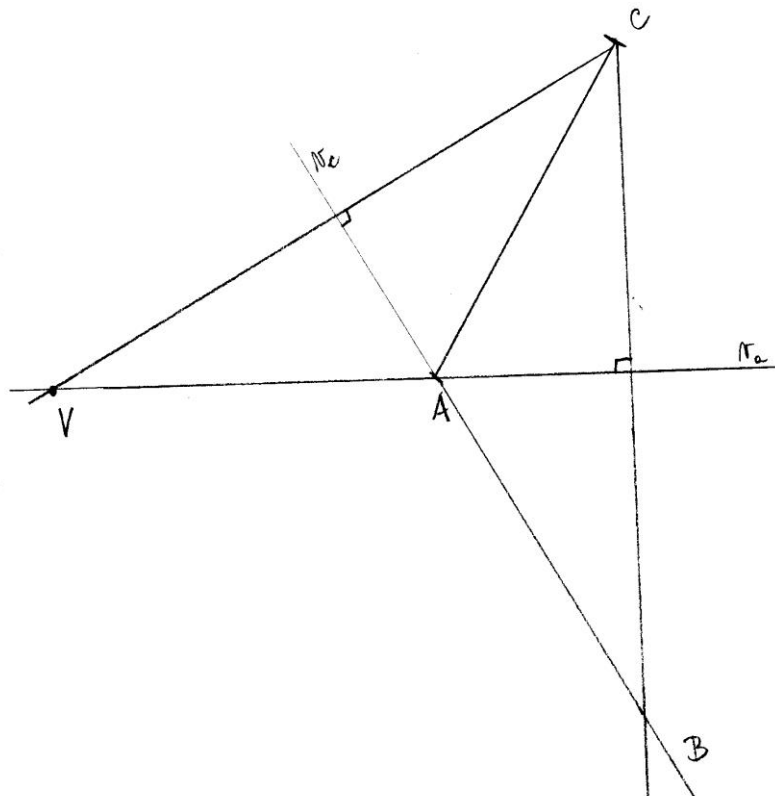
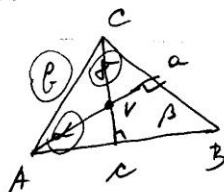
Rešitve delovnega lista 1

Navodilo: Vse zapisano si prepisite in prerišite v zvezek, rešite vaje. Rešitve vaj bodo na naslednjem delovnem listu. (Glej tudi razlago v učbeniku str. 127,128)

Opomba: Upoštevajte, da narisane dolžine niso natančne zaradi skeniranja slik.

①  $b = 6 \text{ cm}$   
 $\angle C = 120^\circ$   
 $\beta = 30^\circ$   
 Višinska točka

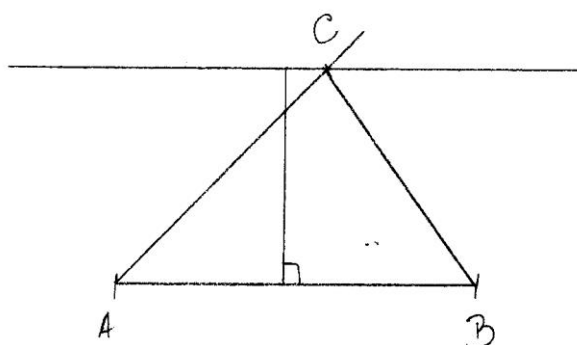
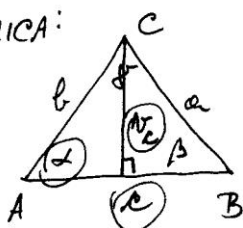
SKICA:



(Opomba: Za višinsko točko je dovolj, da narišemo samo dve višini in tako dobimo presečišče.)

②  $c = 5 \text{ cm}$   
 $N_c = 3 \text{ cm}$   
 $\angle C = 45^\circ$

SKICA:



VAJA

Reši naloge iz učbenika str.128/5b,c in 7a,d

(Rešitve bodo na naslednjem delovnem listu.)