








Pripravi si prostor za šolsko delo. Pazi na držo telesa med delom. Med dejavnostmi



in pij



<p>SREDA, 25. 3. 2020</p>	<p>NAVODILO ZA DELO ZA 2. razred</p>	<p>KAJ SO IZDELKI UČENCA?</p>	<p>OVREDNOTIM SVOJE DELO</p> 
<p>RAČUNAM</p> 	<p>V zvezek za MAT napiši naslov Preverim, prepisi in izračunaj naslednje račune: $20 + 5 =$, $75 + 0 =$, $41 + 3 =$, $64 + 5 =$, $53 + 3 =$, $81 + 0 =$, $26 + 2 =$, $30 + 9 =$, $91 + 3 =$. Rešitve za samovrednotenje so pripete pod tabelo. Sedaj pa reši še naslednje račune: $25 + 5 =$, $75 + 5 =$, $41 + 9 =$, $64 + 6 =$, $53 + 7 =$, $81 + 9 =$, $26 + 4 =$, $30 + 10 =$, $91 + 9 =$. Razloži, kaj si opazil. Če imaš voljo, reši še račune na delovnem listu. Račune lahko tudi prepíšeš v zvezek.</p>	<ul style="list-style-type: none"> - Rešeni preverjanje. - Samovrednoti svoje znanje. - Rešeni računi. - Razlaga dobljenih rezultatov. - Izbirno: rešen DL ali zapis računov v zvezek. - Samovrednoti svoje delo. 	<p>(nariši si smejka za vsako dejavnost)</p>
<p>RAZISKUJEM GOVORIM</p> 	<p>Danes boš opazoval in razmislil o razvoju rastlin in živali. Oglej si posnetek rasti fižolovega semena https://www.youtube.com/watch?v=EKx4ZwoJqXY in posnetek razvoja piščanca v jajcu https://www.youtube.com/watch?v=PedajVADLGw Sedaj pa razmisli in pripoveduj: Človek so rodi. Živali se skotijo, izležejo, izvalijo. V zvezek za SPO nariši dve živalski družini.</p>	<ul style="list-style-type: none"> - Oglel posnetkov. - Pogovor o razvoju rastlin in živali. - Narisani dve živalski družini. - Samovrednoti svoje delo. 	
<p>PIŠEM BEREM</p> 	<p>Sedaj boš postal moj pomočnik-učitelj. Pregledal si boš opravljene naloge v DZ2 za slovenščino na straneh: 4, 9, 10 in 11 (rešitve so pod tabelo). Si našel kakšno napako? Super! Naslednjič je sigurno ne boš več naredil. Sedaj pa pripravi zvezek za pisanje. Povedi, ki so zapisane spodaj na listu, smiselno dopolni (rokav zašijemo) in jih, vse razen 3., zaradi črke k ★, prepisi.</p>	<ul style="list-style-type: none"> - Pregledane naloge v DZ. - Prepis. - Bralni trening. - Samovrednoti svoje delo. 	
<p>USTVARJAM</p>  <p>Medpredmetna povezava LUM in SPO</p>	<p>Danes boš na list pričaral pomlad. Vzemi zvezek SPO in upoštevaj, kaj mora slika prikazati:</p> <ul style="list-style-type: none"> - naj bo v ospredju cvetoče pomladno drevo, na njem nariši ptičje gnezdo in ptico, ki opazuje jajce, - nariši sebe pri kakšnem pomladnem opravilu - na sliki prikaži vreme, ki je značilno za pomlad - dodaj še kaj, kar meniš, da mora biti na sliki. 	<ul style="list-style-type: none"> - -Slika o pomladi. - -Samovrednoti svoje delo. 	

VPRAŠANJA ZA VREDNOTENJE: Kaj sem se danes učil? Kaj mi je šlo dobro? Kaj moram popraviti? Kako sem se počutil v šoli doma? Bi kaj želel predlagati? Kaj bi sporočil svoji učiteljici in sošolcem?

Po delu očisti svoje potrebščine




in jih pripravi za naslednji dan.

Rešitve nalog v delovnem zvezku za slovenščino 2. del

DZ za SLJ 2. DEL, stran 4

3. Ustrezno poveži z različnimi barvami.



DZ za SLJ 2. DEL, stran 9

4. Kaj veš o Gregi?

Ime: Grega
Vzdevka: Gregec, Kekecpasteta
Starost: 7 let
Najljubša hrana: mlečni riž, čufte, jurjeva kapa
Najljubši film: Kekčeve ukane

DZ za SLJ 2. DEL, stran 10

2. Odgovori.

Kateri poklic je Ela Peroci najprej opravljala?

Najprej je opravljala poklic učiteljice.

Komu je pripovedovala pravljice, preden jih je izdala v knjigah?

Pravljice je najprej pripovedovala hčerkama.

DZ za SLJ 2. DEL, stran 11

6. V preglednico vpiši moško in žensko obliko teh poklicev.

Moška oblika poklica	Ženska oblika poklica
pisatelj	pisateljica
urednik	urednica
ilustrator	ilustratorica
oblikovalec	oblikovalka
lektor	lektorica
knjigarnar	knjigarnarica
knjižničar	knjižničarka



Dopolni povedi. Uporabi besede **izmeriti**, **leteti**, **prišiti** in **sesati**.

Širino vrat smo _____ iz metrom.

To letalo _____ v Tel Aviv.

★ S šivanko smo _____ rokov.

Lina s sesalcem _____ vežo.

MATEMATIKA

Rezultati (za samo-preverjanje).

$20 + 5 =$

25

$75 + 0 =$

75

$41 + 3 =$

44

$64 + 5 =$

69

$53 + 3 =$

56

$81 + 0 =$

81

$26 + 2 =$

28

$30 + 9 =$

39

$91 + 3 =$

94

46 PRIŠTEVAMO ENICE BREZ PREHODA



1. Izračunaj.

HM, OPAZIL SEM NEKAJ ZANIMIVEGA.



$12 + 3 = \underline{\quad}$

$2 + 6 = \underline{\quad}$

$41 + 8 = \underline{\quad}$

$22 + 3 = \underline{\quad}$

$12 + 6 = \underline{\quad}$

$51 + 8 = \underline{\quad}$

$32 + 3 = \underline{\quad}$

$22 + 6 = \underline{\quad}$

$61 + 8 = \underline{\quad}$

$42 + 3 = \underline{\quad}$

$32 + 6 = \underline{\quad}$

$71 + 8 = \underline{\quad}$

$52 + 3 = \underline{\quad}$

$42 + 6 = \underline{\quad}$

$81 + 8 = \underline{\quad}$



2. Dopolni.

+ 4	
20	24
33	
51	
14	
45	

+ 2	
36	
65	
72	
13	
87	

+ 5	
61	
30	
94	
22	
43	



3. Dopolni.

