









Pripravi si prostor za šolsko delo. Pazi na držo telesa med delom. Med dejavnostmi



in pij



TOREK, 5. 5. 2020	NAVODILO ZA DELO 2. razred	KAJ SO IZDELKI UČENCA?	OVREDNOTIM SVOJE DELO 
<p>RAČUNAM</p>   	<p>DOBRO JUTRO, DOBER DAN, NAJ BO LEP, PRIJAZEN IN NASMEJAN. ZA ZAČETEK: PREGLEJ PIKTOGRAME IN NAVODILA V CELOTI</p> <p>Namen: ponovim računanje s prehodom desetice; računam s prehodom desetice do 100 ob ponazorilih (številski trak, stotični kvadrat, palčke, kocke...).</p> <p>1. dejavnost Najprej ponovimo računanje s prehodom desetice: $6 + 5 = 10 + 1 = 11$ $4 + 8 = 12$</p>  <p>2. dejavnost Sedaj pa na podoben način izračunajmo naloge v DZ stran 36. Preberi 1. nalogo, označi podatke, preglej ponazoritev s kockami in na številskem traku. Dobro pogledj postopek računanja.</p> <p>3. dejavnost V zvezek napišite naslov Prištevam enice – PREHOD. S pomočjo 2. naloge v DZ na strani 36 izračunajte račune. Dobro pogledjte prikaz na stotičnem kvadratu in računajte na dolgo (pod tabelo preveri pravilnost računanja).</p> <p>4. dejavnost Rešite še 3. nalogo. Dobro preberite račune. 1. in 2. stolpec rešite vsi, 3. pa je za dodatno vajo.</p> <p>5. dejavnost Izračunaj račune ob številskem traku. Lahko jih natisneš ali prepíšeš v zvezek.</p> <p><i>Podobne vaje lahko najdeš tudi na:</i> https://www.digipuzzle.net/minigames/classichangman/hangman_quiz_si_pristevam_enice_do_100_s_prehodom.htm</p>	<p>-Rešene naloge v DZ stran 36. -Rešene na loge na delovnem listu -Samovrednoti svoje delo - Zapis v zvezek</p>	<p>Učenci naj ovrednotijo svoje delo, povedo, kako se pri delu počutijo oz. izrazijo, kako so bili uspešni.</p>

VPRAŠANJA ZA VREDNOTENJE: Kaj sem se danes učil? Kaj mi je šlo dobro? Kaj moram popraviti? Kako sem se počutil v šoli doma? Bi kaj želel predlagati? Kaj bi sporočil svoji učiteljici in sošolcem? Po delu očisti svoje potrebščine  in jih pripravi za naslednji dan.



BRALNI TRENING. Pripravi si tabelo za branje vsakdan v mesecu maju. Lahko jo natisneš ali narišeš sam v zvezek za slovenščino.

DZ STRAN 36, 2. NALOGA

$$26 + 7 = 30 + 3 = 33$$

4 3

$$47 + 4 = 50 + 1 = 51$$

3 1

$$39 + 8 = 40 + 7 = 47$$

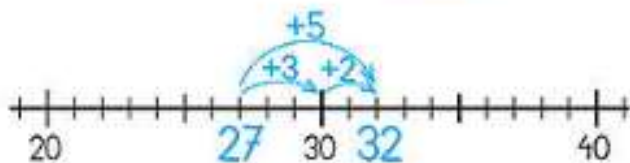
1 7

Računamo ob številskem traku.

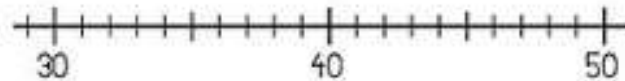


1. Izračunaj. Pomagaj si s številskim trakom.

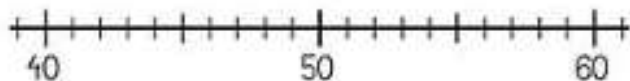
$$27 + 5 = \underline{\quad}$$



$$36 + 7 = \underline{\quad}$$



$$48 + 6 = \underline{\quad}$$



$$19 + 5 = \underline{\quad}$$

